

令和4年度 東京都立立川国際中等教育学校附属小学校の適性検査問題

筆記B

1

今日はお休みの日です。
よく晴れた、気持ちがいい秋の日です。
キツネ、サル、ヒツジ、リスの4匹は公園で遊ぶ約束をしていました。

リスは公園の近くに住んでいるので、公園に最初にやって来ました。
3匹を待つために木の下ベンチに行くと、見たこともない木の実を見つけました。
リスは、名前が知りたくなって、持って来た木の実の図鑑を読み始めました。

リスが色々な木の実の名前を図鑑で調べていると、次にヒツジがやって来ました。
「おはよう。リスさん。わあ、色々な木の実があるんだね。紙とクレヨンを持って来たから、一緒に木の実の絵を描こうよ。」
「それはいいね。ヒツジさん。」
2匹は、クレヨンで紙にどんどん色々な木の実の絵を描きました。


2匹が木の実の絵を描いていると、今度はサルがやって来ました。
「おはよう。ヒツジさん、リスさん。よく飛ぶ紙飛行機の折り方を教わったよ。みんなの紙飛行機も作って持って来たから、一緒に飛ばそうよ。」
「そうだね。そうしよう。」
「せえの。」

3匹がすっと紙飛行機を飛ばすと、紙飛行機は風に乗ってすいすいと飛んでいきました。
「わあい。並んで飛んでいったね。本当によく飛ぶ紙飛行機だね。サルさん、ありがとう。」

3匹が紙飛行機で遊んでいると、最後にキツネがやって来ました。
「おはよう。サルさん、ヒツジさん、リスさん。畑のリンゴが大きく育ったから、持って来たよ。みんなで食べよう。」
「わあい。ありがとう。キツネさん。たくさん遊んでおなかが減ったから、嬉しいよ。」
おいしいリンゴをもりもり食べて、4匹は元気が出ました。
キツネが、「今度は砂場で遊ぼうよ。」と言うと、4匹は仲良く砂場に走って行き、みんなで楽しく遊びました。



4枚の絵があります。この中で、ヒツジが持って来た物はどれですか。その物を大きく○で囲んでください。




4枚の動物の絵があります。この動物の中で、公園に4番目にやって来て、みんなに砂場で遊ぼうと言った動物はどれですか。その動物を大きく○で囲んでください。

2



太い線で囲まれた四角の中を見てください。その中で、矢印の方向にしりとりをすると、全部つながるようになっていきます。真ん中の四角の中に入る2つの生き物はどれですか。その2つの生き物が並んで描かれているものを選んで、その下に○を描いてください。



太い線で囲まれた四角の中に、門松の絵があります。日本には、春、夏、秋、冬の季節があります。門松を飾る季節と、同じ季節を表している絵が隣の4枚の絵の中に1枚だけあります。その絵を大きく○で囲んでください。

3



4人のお友達が遊びに来ました。今、1人にスリッパを用意したところです。残りの全員のお友達にもスリッパを出します。他のお友達に必要なスリッパは何個ですか。右に並んでいるスリッパを必要な数だけ○で囲んでください。



白く空いているところに、白いところが見えなくなるようにぴったりはまる形を探しています。隙間なくぴったりはまる形が、隣の4個の形の中に1個だけあります。その形を大きく○で囲んでください。

4



同じ決まりを使って、机の上に積木で階段を作りました。最初に、積木を1つ置いて1段の階段としました。隣に、一番下の段の積木を1つ増やした2段の階段を作りました。その隣に、同じように一番下の段の積木を1つ増やした3段の階段を作りました。最後に、その隣の空いているところに、片方だけの4段の階段を作ろうと思います。今までと同じ決まりで作るとすると、積木が全部でいくつあれば4段の山を作れますか。点線の下に並んだ積木を、必要な数だけ○で囲んでください。



(別紙を使い、紙を裏返して透かし、表の絵と見比べる練習をしてから問題に取り組む。) 太い線で囲まれた四角の中に、絵が描いてあります。この絵を裏返して見た絵が、隣の4枚の絵の中に1枚だけあります。その絵の下の四角の中に、○を描いてください。

5

○ 運筆

毛糸で靴下を編んでいます。毛糸の中と靴下の模様の中に、鉛筆で線を描きます。くねくねした毛糸からはみ出したり、毛糸の線や靴下の模様につぶかたりしないように気を付けながら、左下にある毛糸の白い三角(△)から始めて靴下の黒い三角(▲)まで鉛筆で線を描いてください。

○ 塗り


色鉛筆で靴下にある3個の模様にも色を塗ります。はみ出したり、白いところが残ったりしないように色を塗ってください。

筆記 B の解答例 30 点

1




3点

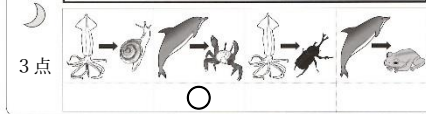


3点

2




3点



3点

3

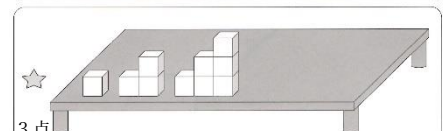


3点




3点

4



3点



3点

5

運筆 3点 塗り 3点 ※解答例は省略